

國中第一學期三年級第 1 次段考 歷史科 試題卷 [康版]

命題範圍 | 主題二 單元 1 古文明的發展
單元 2 歐洲的古典文明

年 班 號 姓名

一、單題：每題 3 分，共 90 分

(A) 1. 基督教的《聖經》可分為《舊約》與《新約》，其中的《舊約》同時也是哪個宗教的經典？

- (A) 猶太教 (B) 祆教
(C) 印度教 (D) 婆羅門教

(C) 2. 某人在浴缸洗澡時發現浮力原理，並且曾經說過：「給我一個支點，我可以撐起整個地球。」此人在物理學、數學等皆有重要貢獻。上述指的是哪位人物？

- (A) 歐幾里德 (B) 希羅多德
(C) 阿基米德 (D) 蘇格拉底

(B) 3. 右表是老師講述希臘化文化特點時，在黑板上整理的表格，表中「？」處應填入何者？

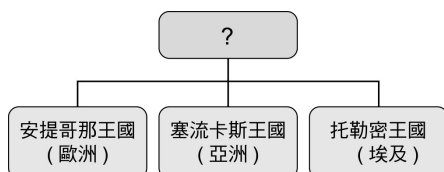
項 目	內 容
建 立 者	亞歷山大
通用語文	？
重大成就	數學、物理學等

- (A) 波斯文 (B) 希臘文 (4. (A) 兩者相反；(C) 《歷史》亦屬希臘文化的著作；(D) 希臘文化為西方文化的源頭)
(C) 義大利文 (D) 拉丁文

(B) 4. 下表是佳佳整理有關「希臘文化」與「希臘化文化」的表格，何者敘述是正確的？

項目	希臘文化	希臘化文化
(A) 時間	形成較晚	形成較早
(B) 代表人物	柏拉圖	歐幾里得
(C) 著作	荷馬史詩	希羅多德《歷史》
(D) 特色	東方文化之源	融合西亞、埃及文化

(C) 5. 下圖是拉拉閱讀《世界帝國史》時所發現某個帝國分裂後的組織圖，該帝國分裂的原因為何？



- (A) 外族的大量入侵
(B) 宗教力量的干涉
(C) 帝國建立者的逝世
(D) 國家經濟面臨困境

(B) 6. 小宇和小真參加了「希臘化文化深層之旅」行程。他們可能會前往哪個最具代表性的城市觀光？

- (A) 羅馬城 (B) 亞歷山卓
(C) 哈拉帕 (D) 摩亨約達羅

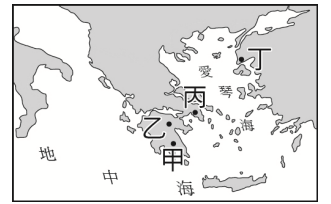
(B) 7. 「這個文明的宗教信仰屬於多神信仰，相信萬物與神明都有自己的意志與情感，諸神為了追求自身的利益，經常介入人類事務。」上述應該是哪個文明的宗教特色？

- (A) 埃及 (B) 希臘 (C) 波斯 (D) 印度

(A) 8. 《三百壯士：斯巴達的逆襲》描述斯巴達在腹背受敵的情況下，斯巴達戰士浴血對抗波斯大軍，最後全數陣亡。下列對斯巴達的敘述何者正確？

- (A) 實行軍國主義 (B) 採行民主政治
(C) 以工商業為主 (D) 公民可以直接參與政治

(C) 9. 「某城邦的部分成年男子可直接決議城邦事務，官員更是從公民中抽籤產生。」上述為右圖中哪個城邦的政治特色？



- (A) 甲 (B) 乙 (C) 丙 (D) 丁

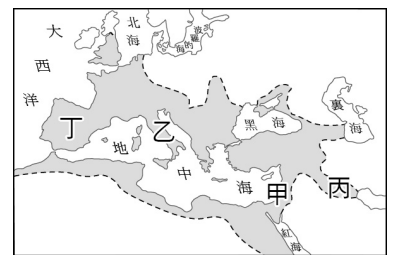
(A) 10. 小明在書上看到凱撒的照片，照片說明提到凱撒終其一生並未稱帝，但他曾征服各地，世人常稱之為「凱撒大帝」。歷史上凱撒是遭到刺殺身亡，是因為刺殺者擔心他會破壞羅馬的何種體制？

- (A) 共和 (B) 王政 (C) 專制 (D) 民主

(D) 11. 在西方歷史上曾出現兩百多年的羅馬和平時代。這個時期以下列何者為開端？

- (A) 基督教被訂為合法宗教
(B) 將基督教訂為國教
(C) 羅馬人推翻異族統治，結束王政時代
(D) 屋大維被元老院尊為「奧古斯都」

(A) 12. 「南韓有名宗教狂熱男子被發現釘死在十字架上，似乎是仿自耶穌受難時的情景。」這則新聞讓冠珍想到基督教的創立者耶穌被釘死於十字架上。耶穌是在右圖中何地創立基督教？



- (12. 巴勒斯坦位於甲；乙：義大利半島；丙：兩河流域；丁：伊比利半島)

- (A) 甲 (B) 乙 (C) 丙 (D) 丁

(D) 13. 下表是小花整理世界上四個民族的宗教觀，在這張表格中，何者配對錯誤？

選項	民族	宗教觀
(A)	希伯來人	一神信仰
(B)	阿利安人	靈魂輪迴
(C)	波斯人	善惡對立
(D)	羅馬人	神具有七情六欲

(C) 14. 基督教被羅馬帝國打壓了近數百年的時間，最後於四世紀初在羅馬皇帝的支持下得到平反與信仰自由。下列哪位皇帝宣布基督教為合法宗教？

- (A) 狄奧多西 (B) 凱薩
(C) 君士坦丁 (D) 屋大維

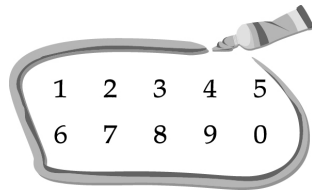
(C) 15. 大雄乘坐時光機來到某個國度，他發現該國的工程技術發達，下水道系統十分完備，公路筆直，四通八達，人民更注重休閒，經常結伴到競技場觀看比賽。大雄應該去到下列何地？

- (A) 古王國時期的埃及
(B) 孔雀王朝時期的印度
(C) 羅馬帝國時期的羅馬
(D) 亞歷山大帝國時期的雅典

(D) 16. 歷史上，歐洲許多國家都曾被羅馬帝國所統治，受羅馬文化影響深遠。但下列哪個地區沒有受到羅馬帝國的統治？

- (A) 英國 (B) 法國 (C) 義大利 (D) 俄羅斯

(D)17. 右圖的數字目前已通行世界各地，其實這種數字系統最早是由哪個民族所發明的？



- (A)波斯 (B)蘇美 (C)埃及 (D)印度

(C)18. 有關古埃及的政治發展，下列敘述何者正確？

- (A)西元前 2500 年，才開始出現統一的王國
(B)古王國時期是版圖最為遼闊的時代
(C)中王國時期對外貿易十分興盛
(D)新王國晚期被來自小亞細亞的西臺人所滅

(A)19. 曉明整理了一張西亞各民族及其文化的配對表格，如下表所示，但表中只有哪項觀念正確？

選項	民族	文化特色
(A)	巴比倫人	制訂《漢摩拉比法典》
(B)	蘇美人	以陽曆記日
(C)	西臺人	使用青銅器
(D)	希伯來人	創立祆教

(D)20. 哆啦 A 夢搭乘時光機來到古時候的北非迦太基城，此地熱鬧非凡，據說當地是腓尼基人所建立的殖民城市。下列對腓尼基人的敘述何者正確？

- (A)創立最早的一神信仰 (20. A希伯來人；B亞述人；C埃及人)
(B)宮殿浮雕愛好以戰爭為題材
(C)觀測太陽運行規律，創制陽曆
(D)簡化埃及文字，成為西方文字的源頭

(B)21. 嘉群與同學正在討論右圖中的文字，哪位同學的說法符合歷史事實？

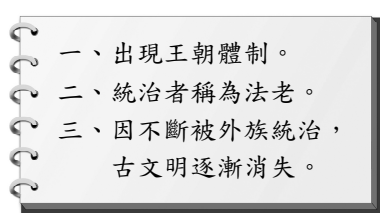


- (A)嘉群：「當時人們在龜甲與獸骨上用刀子刻上字體。」
(B)培儒：「可在蘇美人的相關史料中發現。」
(C)昇偉：「今年寒假，我至北印度旅遊時，發現這是當地大量出土的文物。」
(D)麒晉：「這類文字常見於埃及，象徵埃及人的信仰觀念。」 (21.此圖為蘇美人發展出的「楔形文字」)

(B)22. 沛林在廣播中聽到一首歌曲：「山羊、水瓶、雙魚、牡羊座，金牛、雙子、巨蟹座，獅子、處女、天秤、天蠍、射手座，女人的心千變萬化……」歌詞中出現的十二星座，可能是由哪個擅長觀測天象與占星術的民族所命名的？

- (A)波斯人 (B)加爾底亞人
(C)埃及人 (D)亞述人

(C)23. 右圖為老師上課的內容。依內容判斷，此堂課講述的是哪個古文明？



- (A)西亞 (B)印度
(C)埃及 (D)愛琴海

(A)24. 埃及古文明的象徵是金字塔，這是埃及哪個時期開始所遺留下來的文化成就？

- (A)古王國時期 (B)中王國時期
(C)新王國時期 (D)帝國時期

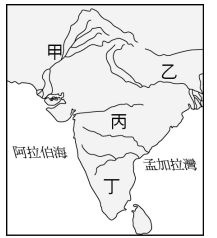
(A)25. 埃及尼羅河定期氾濫，改變沿岸原有地貌，促使埃及人發展下列何者，以推測其氾濫時間？

- (A)曆法 (B)律法 (C)醫學 (D)化學

(A)26. 西元前六世紀釋迦牟尼目睹世間苦難而創立佛教，且反對婆羅門教中的哪種觀念？

- (A)階級之別 (B)因果輪迴 (27.西元前 2300 年左右，印度河流域已出現農業文明)
(C)死而復生 (D)一神信仰

(A)27. 考古學家曾在右圖中的何地，挖掘出西元前 2300 年左右的古文明，這些文明有規劃整齊的街道、浴場、下水道、大穀倉等大型公共設施，顯示當地已出現強而有力的政治組織？



- (A)甲 (B)乙 (C)丙 (D)丁

(D)28. 阿朗在閱讀印度歷史故事時，看到書上對三個不同時期民眾信仰的描述如下：(甲)人民相信婆羅門教及其因果輪迴的教義；(乙)人民所信仰的印度教是融合印度多種宗教、信仰而成；(丙)人民相信可藉由行善、修行，超脫輪迴之苦。下列哪個選項是上述人民信仰在歷史上出現的時間順序？

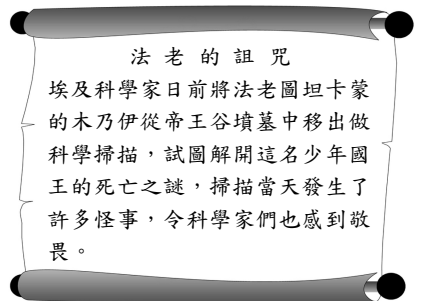
(28.甲為印度最早的婆羅門教→丙為西元前六世紀發展的佛教→乙為西元四世紀後逐漸發展成的印度教)

- (A)甲→乙→丙 (B)乙→甲→丙
(C)丙→甲→乙 (D)甲→丙→乙

(B)29. 小方介紹古代西方神祇時提到：「這位神明主宰死亡與復活，並依據亡靈生前的言行進行審判，決定其是否能夠再生。」上述神祇為下列何者？

- (A)太陽神 (B)尼羅河神
(C)耶和華 (D)釋迦牟尼

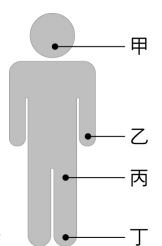
(A)30. 右列為靜香閱讀的百科全書之內容。古埃及人製作木乃伊的目的為何？



- (A)讓亡者復活的靈魂可與肉體再度復合
(B)相信這樣可以造福後代子孫
(C)祭祀太陽神與尼羅河神
(D)提供後代解剖研究之用

二、題組：每題 2.5 分，共 10 分

◎ 右圖是某個古文明的社會階層示意圖，四個階層分別代表了原始巨人的四個身體部位，這種社會階層十分嚴明，且影響至今。請問：



(A)31. 這個社會階層的形成，與哪個因素最有關係？ (31.此為印度古文明，而社會階層的形成與婆羅門教有關)

- (A)宗教 (B)經濟 (C)藝術 (D)法律

(B)32. 在這個社會階層的區分中，哪個階層代表了原始巨人的乙部位？ (32.A奴隸為丁；B貴族為乙；C平民為丙；D祭司為甲)

- (A)奴隸 (B)貴族 (C)平民 (D)祭司

◎ 希臘的古文明被視為歐洲歷史的起源地之一，作為歐洲文明的先驅者，希臘人以城邦的型態在地中海沿岸形成生活區，同時將其文化向外傳播。請問：

(A)33. 希臘半島上之所以會出現城邦的型態，與下列哪個因素最相關？

- (A)地形崎嶇 (B)民族複雜
(C)多元宗教 (D)經濟獨立

(C)34. 某城邦主要施行民主政治，其主要參與政治事務者具有下列何種身分？

- (A)婦女 (B)外國人 (C)公民 (D)孩童