

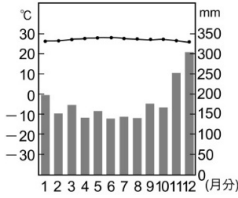



# 國中第一學期三年級第 3 次段考 地理科 試題卷 [南版]

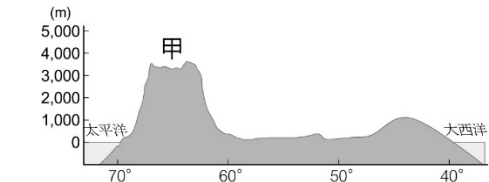
命題範圍 | 主題一 單元 5 北美洲  
單元 6 中南美洲

年 班 號 姓名

## 一、單題：每題 3 分，共 84 分

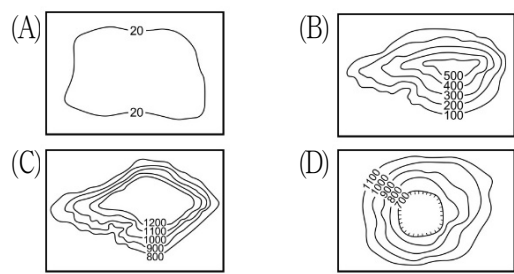
- ( ) 1. 新聞報導：「2007 年巴西砍伐森林將近 3,000km<sup>2</sup>，不僅造成當地水土流失、影響全球氣候，更破壞全球最大的物種基因庫，導致物種滅絕。」上述「基因庫」位於右圖中何處？  
 (A)甲 (B)乙 (C)丙 (D)丁
- 
- ( ) 2. 熱帶雨林的氣候特色為終年高溫，水氣蒸發相當旺盛，午後經常下起傾盆大雨，傍晚雨過天晴後，氣候最為涼爽。這種氣候分布於下列何處？  
 (A)北美洲東部 (B)安地斯山北段  
 (C)西印度群島西側 (D)南美洲東部
- ( ) 3. 右圖中的「甲處」為南美洲的溫帶沙漠氣候區，其形成的原因為：(甲)緯度位置；(乙)位背風側；(丙)高壓籠罩；(丁)寒流流經。正確為哪兩項？  
 (A)甲乙 (B)甲丙  
 (C)乙丁 (D)丙丁
- 
- ( ) 4. 「南美洲某國有熱帶、溫帶及寒帶的氣候變化，加上強風吹拂，對當地人們生活的影響甚為明顯。」「某國」最可能位於哪一個地區？  
 (A)高緯、山地 (B)高緯、平原  
 (C)低緯、山地 (D)低緯、平原
- ( ) 5. 中南美洲擁有的氣候類型多元，包括熱帶氣候、溫帶氣候和高地氣候。推測右圖應該是下列哪個地區的氣候圖？  
 (A)巴西高原 (B)彭巴草原  
 (C)安地斯山脈 (D)亞馬孫盆地
- 
- ( ) 6. ①熱帶莽原氣候；②熱帶雨林氣候；③熱帶沙漠氣候；④高地氣候。右圖中由甲到乙依序排列，下列何者正確？  
 (A)①②③④ (B)②①③④  
 (C)③④①② (D)②①④③
- 
- ( ) 7. 十五世紀時，西、南歐的海洋國家，例如：英、法、西、葡等國希望擴展海外航運路線，尋找歐洲航行至印度的航道，因此當時哥倫布在越渡大西洋後所達的島群便稱之為西印度群島。當時所發現的這些西印度群島位於下列哪個海域中？  
 (A)地中海 (B)加勒比海 (C)北海 (D)黑海
- ( ) 8. 「這個大陸的國家幾乎都曾被歐洲列強殖民過，帶來拉丁語文、天主堂、大農場，還有黑種民族……」當地的大農場主要種植哪種熱帶作物？  
 (A)葡萄 (B)棉花  
 (C)咖啡 (D)玉米

- ( ) 9. 下圖為沿 20°S 繪製的美洲地形剖面圖，由圖判斷，「甲」可能是下列哪座山脈？



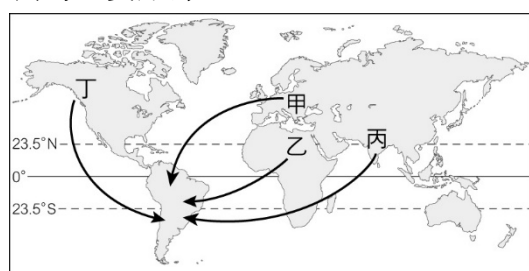
- (A)落磯山脈 (B)阿帕拉契山脈  
 (C)海岸山脈 (D)安地斯山脈

- ( ) 10. 中美洲連接南、北美洲兩大陸塊，除墨西哥以何種地形為主體外，其餘多破碎，以山地為主體？



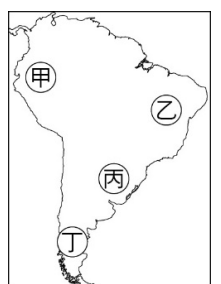
- ( ) 11. 「這個族群分布的範圍從北美的加拿大到南美的南部，都是他們傳統的生活領域。他們依照所在的環境，有的打獵，有的游耕，有的種玉米，有的種馬鈴薯，也有依野牛維生。如今他們的傳統文化大都因白人的入侵而消失。」上文所描述的是下列哪個族群？  
 (A)斯拉夫人 (B)貝都因人  
 (C)因紐特人 (D)印第安人

- ( ) 12. 下圖中哪條路線是當時歐洲人引進勞工到中南美洲的主要路線？



- (A)甲 (B)乙 (C)丙 (D)丁

- ( ) 13. 南美洲多屬開發中國家，豐富的農產資源是各國重要的經濟來源。右圖中哪一地點的農業景觀具有垂直分布的特色，種植甘蔗、咖啡、可可、玉米、小麥、馬鈴薯等多樣性作物？




- (A)甲 (B)乙 (C)丙 (D)丁

- ( ) 14. 「□□外形有點像綿羊，大多生活在南美洲的高地上。當地人豢養牠，會利用牠的毛編織各種保暖衣物。」此最有可能是何種牲畜？  
 (A)羊駝 (B)大象 (C)駱駝 (D)驢子

- ( ) 15. 阿 Ken 和納豆計畫到南美洲自助旅行，他們可能會遇到下列哪種狀況？  
 (A)在彭巴草原參觀橡膠園  
 (B)在最南端的火地島因中暑而就醫  
 (C)秘魯機場的海關人員以葡萄牙文歡迎他們  
 (D)從智利往南依序看到沙漠、葡萄園、峽灣

- ( ) 16. 右圖為報紙對中南美洲某國實施商業性農業的諷刺漫畫。由圖中可判斷，該圖作者主要是諷刺當地的何種農業？



- (A) 稻作農業 (B) 熱帶栽培業  
(C) 混合農業 (D) 地中海型農業
- ( ) 17. 梓彥暑假時到中南美洲某個國家境內發現到馬雅古文明，並了解馬雅人對美洲與全球農業文明的貢獻。梓彥到了哪個國家？

(A) 古巴 (B) 秘魯 (C) 阿根廷 (D) 墨西哥

- ( ) 18. 關於加拿大的敘述，下列何者正確？

(A) 聖羅倫斯河谷地是當地主要的農業生產區  
(B) 首都位於溫哥華，是華人主要分布區之一  
(C) 多西、葡兩國移民，造成現今為雙語系國家  
(D) 法裔為主的魁北克，多次公民投票爭取獨立

- ( ) 19. 美國電影工業基地——好萊塢 Hollywood，是許多電影工作者心中的殿堂，若要參觀片廠，應前往右圖中哪個城市？



(A) 甲 (B) 乙 (C) 丙 (D) 丁

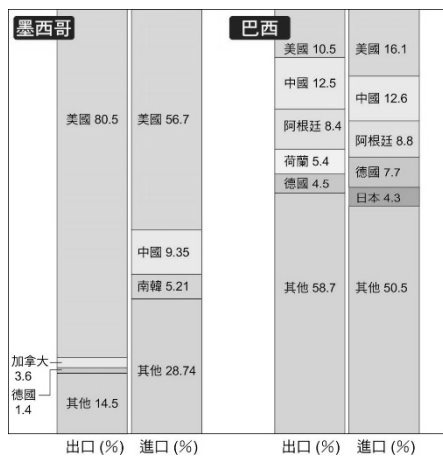
- ( ) 20. 產業活動在生產成本的考慮下，要避免造成過度的貿易出超及關稅提高。根據上述考量，若臺灣的電子產品要出口至美國，應前往下列何處設廠較為適合？

(A) 巴拿馬 (B) 巴西 (C) 墨西哥 (D) 美國

- ( ) 21. 美國地質探勘局長向媒體發出警語，下一個超級地震很可能發生在美國，而加州將首當其衝。由此推測，地震發生的地點最可能位於下列何處？

(A) 拉布拉多高原 (B) 阿帕拉契山區  
(C) 落磯山區 (D) 北美大平原

- ( ) 22. 下圖中可以說明下列哪種現象？



(A) 兩國同列為金磚四國  
(B) 巴西的貿易對象較為單一  
(C) 墨西哥最主要的貿易夥伴是美國  
(D) 加工出口業是巴西經濟發展的主力

- ( ) 23. 里志喜愛舊金山四九人隊的美式足球隊伍，此隊名與西元 1849 年美國湧入十萬名渴望在此淘金致富的人口有關。該球隊應在美國何處都會區？

(A) 五大湖都會區  
(B) 美加西岸都會區  
(C) 美國東岸東北部都會區  
(D) 美國東岸東南部都會區

- ( ) 24. 「占領華爾街」是一個非暴力反抗運動，始於 2011 年 9 月 17 日在美國某大都會區內的自由廣場。從美國到歐亞，估計至少有 950 個城市響應。該活動緣起於哪座城市？

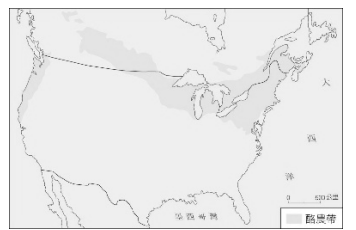
(A) 紐約 (B) 底特律 (C) 芝加哥 (D) 洛杉磯

- ( ) 25. 右表為某地區四個國家的主要出口商品，根據此內容判斷，這些國家應位於哪個地區？

| 國家 | 主要出口商品      |
|----|-------------|
| 甲  | 咖啡、鐵砂       |
| 乙  | 蔗糖、菸草       |
| 丙  | 小麥、肉品       |
| 丁  | 石油、加工出口工業產品 |

(A) 南亞 (B) 西亞  
(C) 西歐 (D) 中南美洲

- ( ) 26. 右圖為北美洲酪農帶分布圖，圖中可發現酪農業主要分布於美國東北部的五大湖區沿岸。此分布現象與下列哪種因素最相關？



(A) 氣候冷溼 (B) 暖流流經  
(C) 接近市場 (D) 原料充足

- ( ) 27. 北美洲有少數的弱勢族群，其傳統文化與生活方式逐漸消失。要如何保存該區多元文化的特色，並維護不同族群之間的公平正義，是北美國家現今必須正視的課題之一。上文提及的「傳統文化」是指哪個族群的文化？

(A) 華人 (B) 黑人 (C) 白人 (D) 印第安人

- ( ) 28. 位在美國西南部的拉斯維加斯，氣候乾燥，藉由商人的投資、興建，在沙漠之中打造出世界知名賭場，成為當地經濟收入的主要來源。造成拉斯維加斯氣候乾燥的成因為何？

(A) 風帶移動 (B) 高壓籠罩  
(C) 背對西風 (D) 鋒面交會

## 二、題組：每題 4 分，共 16 分

- ◎ 美國和臺灣的商業貿易往來十分頻繁，美國許多農牧產品都有進口至國內銷售，廣受歡迎。請問：



- ( ) 29. 美國牛肉向來為臺灣重要的進口肉品，然而該國牛肉曾因爆發狂牛症而禁止進口。美國主要的畜牧業活動地區位於圖中何處？

(A) 甲 (B) 乙 (C) 丙 (D) 丁

- ( ) 30. 美國盛產葡萄、橄欖的地中海型農作物主要分布於圖中何處？

(A) 甲 (B) 乙 (C) 丁 (D) 戊

- ◎ 右圖為美洲國家的政區圖。請問：

- ( ) 31. 哪個國家是南美洲唯一傳承葡萄牙文化與語言的國家，並有「金、木、水、火、土」五大天然資源，成為「金磚國家」之一？

(A) 甲 (B) 乙 (C) 丙 (D) 丁



- ( ) 32. 乙國的首都為拉丁美洲第一大城，人口將近 2,000 萬，為世界上人口最多的城市之一。此城市為何？

(A) 利馬 (B) 布宜諾斯艾利斯  
(C) 墨西哥城 (D) 里約熱內盧