

國中第二學期一年級第 1 次段考 歷史科 試題卷 [康版]

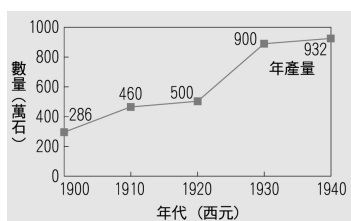
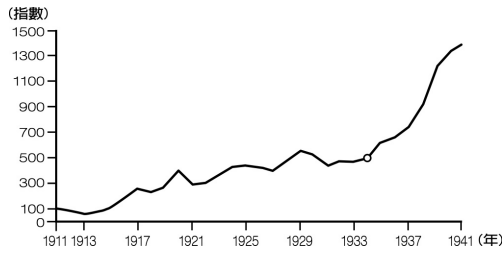
命題範圍 | 主題二 單元 1 日治時期的政治發展
單元 2 日治時期的經濟發展

年 班 號 姓名

一、單題：每題 3 分，共 90 分

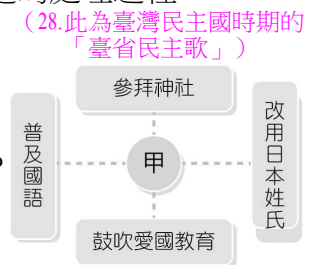
- (B) 1. 柯南想要了解清廷割臺的歷史背景，他可以參閱當時哪位在臺官員所寫的日記？
(A)沈葆楨 (B)唐景崧
(C)邵友濂 (D)劉銘傳
- (D) 2. 小說《風中緋櫻》以西元 1930 年的臺灣原住民抗日事件為背景。書中主角是現今哪個原住民族？
(A)達悟族 (B)賽夏族
(C)阿美族 (D)賽德克族
- (B) 3. 小林先生是日治時代的臺籍老兵，他回憶說：「我本姓林，小林是當時日本人推行某項運動時所改的。當時有些人家門上掛有『國語家庭』的牌子，代表他們家裡都是用日本話交談的。」小林先生所說的某項運動應是下列何者？
(A)放足斷髮運動 (B)皇民化運動
(C)舊慣調查運動 (D)移風易俗運動
- (D) 4. 1895 年《馬關條約》簽訂後，臺灣正式割讓給日本，日本開始進行接收臺灣工作。右圖為日軍接收臺灣的局部路線圖，當時日軍登陸地點「甲」為下列何處？
(A)新竹 (B)彰化 (C)打狗 (D)澳底
- 
- (C) 5. 若希聽爺爺說他在日治時期，曾被強迫遵從日式的生活習慣，參拜日本神社，更被徵召去當臺籍日本兵。若希的爺爺主要是遇到當時總督府所推行的何項政策？
(A)臺日合一 (B)內地延長主義
(C)皇民化運動 (D)無方針主義
- (A) 6. 發生在臺南的西來庵事件，又因主要戰場所在地，而被稱為「噍吧哖事件」。此事件對漢人的抗日運動有何影響？
(A)漢人大規模武裝運動逐漸平息
(B)漢人的武裝運動從此變本加厲
(C)由於日本強勢鎮壓，從此不再有抗日事件
(D)由於日本無力制止，對臺採取無方針主義
- (D) 7. 1896 年，由於臺灣為日本新取得的殖民地，有一個和臺灣總督權力有關的法令在此時頒布。關於此法令的敘述，下列何者正確？
(A)此項法令又稱為「三一法」
(B)依據此項法令的規定，臺灣享有與日本本土完全平等的待遇
(C)臺灣總督擁有教育、司法、軍事等大權
(D)此法令授權臺灣總督頒布具法律效力的命令
- (B) 8. 黃大雄是 1940 年的臺北人，他最不可能有下列哪項經歷？
(A)在基隆港看船入港
(B)從臺北直接搭乘火車到臺東拜訪朋友
(C)將姓氏「黃」改成日本姓氏的共田
(D)使用臺灣銀行發行的紙幣購買衣服
- (C) 9. 敏敏想要知道最早的臺灣森林調查狀況，於是她上網搜尋「最早的林野調查」。她搜尋的結果會與下列哪個時期有關？
(A)鄭氏統治時期 (B)清領時期
(C)日本統治時期 (D)西班牙統治時期
- (B) 10. 清領以來，政府對臺灣的經濟政策幾乎都處於放任發展的狀態，因此使得臺灣的幣制產生紊亂的現象，直至日本政府實施哪項政策後，幣制紊亂的現象才獲得改善？
(A)進行土地調查 (B)成立臺灣銀行
(C)實施專賣制度 (D)實施皇民化運動
- (A) 11. 「他是習醫出身的民政長官，主張以生物學原理治理臺灣，他採順應環境方式，尊重臺灣的風土民情。日治時期的各項基礎建設多在他任內實施。」這位民政長官是誰？
(A)後藤新平 (B)八田與一
(C)樺山資紀 (D)兒玉源太郎
- (A) 12. 小麗的研究專題是有關臺灣舊有風俗習慣的報告，老師建議她參考日治時期留下的調查報告。下列何者是當時日本人調查臺灣風俗習慣的原因？
(A)鞏固日本在臺的統治基礎
(B)純粹是對學術的熱情
(C)對不同文化感興趣
(D)編寫旅遊書供日本人旅遊參考
- (D) 13. 奶奶平時常回憶日治時期的往事，她說：「小時候我很調皮，但只要一聽到『大人來了』，就會變得乖巧。」上文的「大人」是指何者？
(A)軍人 (B)法官 (C)甲長 (D)警察
- (D) 14. 斌彥的曾祖父年輕時所擔任的職務有下列幾項工作：鎮壓抗日分子、協助警察救災等。斌彥的曾祖父當時所擔任的最有可能是下列何種職務？
(A)民政長官 (B)總督
(C)義勇軍統領 (D)壯丁團
- (A) 15. 日本外相陸奧宗光寫信給總理伊藤博文，提到：「今日我對朝鮮之勢力猶不及支那之積威。」為壓倒清朝，擴大勢力，主張清軍先撤走，引發了某場戰役，清軍一敗塗地。上述是指哪個事件？
(A)甲午戰爭 (B)牡丹社事件 (C)苗栗事件 (D)霧社事件
- (C) 16. 柏舜閱讀某名人傳記時，做了以下的整理：「□為日籍工程師，曾被指派到臺灣興建嘉南大圳，此為當時東亞規模最大的水利工程，嘉惠嘉南地區農民甚多。」柏舜閱讀的是何人的傳記？
(A)磯永吉 (B)後藤新平
(C)八田與一 (D)兒玉源太郎
- (C) 17. 近年臺灣少子化嚴重，學者警告再不設法改善，至民國 115 年時，老年人口將占總人口 20%。臺灣史上定期人口普查始於何時？
(A)清領前期 (B)清領後期
(C)日治初期 (D)日治末期

- (B) 18. 日本為了供應本國的農業需求，因此在臺灣推動多項改革，下列何者是這些改革對臺灣的影響？
 (A)因臺灣農業的發展，促進臺灣工業化的進展
 (B)使蔗糖及稻米與地方特產的產量增加
 (C)成功培植出符合日本人口味的「在來米」
 (D)使臺灣成為現代化的農業加工出產國
- (D) 19. 阿耀參加五分車的重駛活動，順道參觀糖廠，解說員告訴大家：「這是臺灣的新式製糖廠，此後各地紛紛成立這種工廠，使得臺灣製糖業蓬勃發展，成為日後的糖業王國……。」製糖業成為日治時期最具代表性的產業，與哪項政策有關？
 (A)專賣制度 (B)農業南洋，工業臺灣
 (C)貨幣統一 (D)農業臺灣，工業日本
- (D) 20. 右圖是臺灣輕工業生產指數圖。由圖可知，1930年代以後指數快速增高，這種情形與哪項建設的完成有關？
 (A)嘉南大圳 (B)高雄港
 (C)縱貫鐵路 (D)日月潭水力發電所
- (C) 21. 「日本政府受領德國戰敗馬克債券後，為變現使用，就在殖民地臺灣主張分配，執行強迫購買之政策。當時臺灣行政機關，州、廳、市、郡、街、莊，藉警察派出所無限大之權限，由日本人巡查（警察）執行強迫分銷馬克債券。」上述的警察會找哪個單位協助分銷馬克債券？
 (A)洋行 (B)行郊 (C)保甲 (D)會社
- (C) 22. 日治時期，總督府在臺灣曾實施「工業臺灣，農業南洋」的政策。下列何者是此政策推行時，總督府致力發展的產業？
 (A)花卉 (B)畜牧
 (C)機械 (D)水產養殖
- (D) 23. 右圖為日本統治時期，臺灣稻米生產量圖。由圖可知，在1920年代後稻米產量大增，這與何者有關？
 (A)獎勵漢人移民墾殖
 (B)招募漢人來臺開墾
 (C)解除劃界封山政策
 (D)興修水利工程
- (B) 24. 1930年代，日本為了使臺灣成為南進補給基地，進而推行哪項治臺政策或運動？
 (A)推動「農業臺灣，工業日本」政策
 (B)實施「農業南洋，工業臺灣」政策
 (C)推行「無方針主義」
 (D)推行「內地延長主義」
- (B) 25. 臺灣民主國反對日本接管臺灣，該組織為了表示對清朝的忠誠，採用哪個年號？
 (A)永續 (B)永清 (C)永忠 (D)永義
- (A) 26. 日本政府為避免臺人反抗其殖民統治，積極推行「內地延長主義」。上述的「內地」是指何者？
 (A)日本 (B)臺灣 (C)中國 (D)朝鮮



(23. C)解除劃界封山為沈葆楨的政策

- (D) 27. 1890年代末，議長：「這是日本帝國的第一個殖民地，如何管理？」議員：「該地距日本遙遠，建議初期授權總督，使其發布的命令等同法律，才能有效管理。」上述討論的是哪個殖民地？
 (A)福建 (B)朝鮮 (C)遼東 (D)臺灣
- (B) 28. 臺灣有首歌謠唱道：「鴻章日本去寫字，尾省臺灣割乎伊，鴻章寫字著完備，著共日本說透機，保領臺灣無代誌，隨拍電報來通知，撫臺即時請頭人，即時抽兵來過江，百姓紳士齊振動，好心勸伊千毋通。」依歌謠內容判斷，何者正確？
 (A)這是戰爭後日本占領沖繩的情形
 (B)此為臺灣官員與地方士紳對臺灣割日的反應
 (C)這是有關牡丹社事件清廷的處理過程
 (D)撫臺指的是丘逢甲
- (D) 29. 右圖中的「甲」，是日本在臺推行的政策，下列何時正處此政策推行的時間？
 (A) 1895年 (B) 1905年
 (C) 1919年 (D) 1942年
- (A) 30. 有關日治時期臺灣糖業發展的敘述何者錯誤？
 (A)蔗農的甘蔗常能賣到好價格
 (B)現今的橋頭糖廠是當時第一座現代化糖廠
 (C)提供日本企業家諸多優惠措施
 (D)蔗糖品質較以往佳



二、題組：每題 2.5 分，共 10 分

- ◎ 在激烈的抗爭過程中，傳聞有馬赫坡社婦人及波阿龍社婦人約百餘人，為了讓自己的丈夫無後顧之憂，而集體上吊自殺。統治者為了縮短這場戰爭，不顧國際公約，以「瓦斯彈」來對付國內的少數民族。……□□見大勢已去，於是命令其家族的婦孺上吊自盡，並槍殺了其妻及兩名孫兒之後，直奔深山，在讓日人無法找到的地方自殺。請問：
- (C) 31. 題幹中的描述為哪個歷史事件的背景？
 (A)苗栗事件 (B)西來庵事件
 (C)霧社事件 (D)臺灣民主國成立
- (D) 32. 文中的□□應該填入何人？
 (A)羅福星 (B)余清芳
 (C)唐景崧 (D)莫那·魯道
- ◎ 大正八年（1919年）8月間，日人在既有的殖民基礎裡發展輕工業，臺灣電力株式會社開始在日月潭興建發電廠，當時適因世界經濟一片蕭條，因此要繼續興建日月潭的發電工事是一大挑戰，尤其在資金匱乏之下。日月潭的發電工事歷經數度興工、停工、復工的困難，於十五年後才完成。請問：
- (C) 33. 文中提及的日月潭發電所，位於圖中何處？
 (A)甲 (B)乙 (C)丙 (D)丁
- (B) 34. 在發電所興建完工後，臺灣工業有何種變化？
 (A)成為世界最環保的發電國家
 (B)提供工業發展動力
 (C)工業逐漸沒落
 (D)達成了農業臺灣、工業日本的政策

