

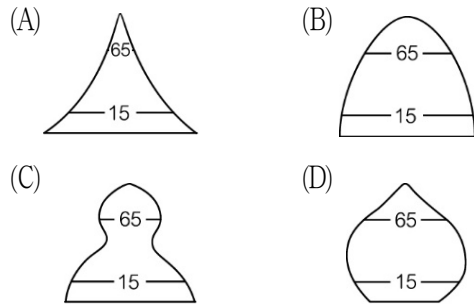
國中第二學期一年級第 1 次段考 地理科 試題卷 [康版]

命題範圍 | 第一單元 第 1 課 臺灣的人口
第 2 課 臺灣的產業 (一)

年 班 號 姓名

一、單題：每題 3 分，共 84 分

(C) 1. 下列哪個人口金字塔圖最能表現出臺灣農村人口的現況？



(1. 農村青年人口大量外流，造成人口金字塔中央部分凹陷)

(B) 2. 上課時老師張貼臺灣不同時期的人口金字塔圖，同學們發現人口金字塔圖的形狀會隨下列何項因素而改變？

- (A) 人口多寡 (B) 經濟發展
(C) 氣溫高低 (D) 土地面積

(C) 3. 早期畜牧業多為農家的副業，隨著經濟發展的腳步，經營模式趨向企業化、科學化。臺灣因土地狹小、有限，所以主要採取哪一種畜牧方式？

- (A) 游牧 (B) 放牧
(C) 欄牧 (D) 山牧季移

(A) 4. 「與柿餅產業有兩百年淵源的新竹縣新埔鎮，農家將採收下來的柿子晒在院落裡，數大為美的澄黃燦爛是經典的景象，之後再加工成好吃的柿餅。」上述包含了哪幾級產業？

- (A) 第一級、第二級
(B) 第一級、第三級
(C) 第二級、第三級
(D) 第二級、第四級

(4. 柿子栽種為第一級產業，加工成柿餅為第二級產業)

(A) 5. 久美子和來自臺灣的秀一結婚，而從日本嫁到臺灣，在臺灣定居下來。久美子的遷移是屬於何種類型？

- (A) 國際永久性遷移 (B) 國內永久性遷移
(C) 國際暫時性遷移 (D) 國內暫時性遷移

(C) 6. 臺東和花蓮的人口分布雖然較臺北稀疏，但是臺東和花蓮的居民在生活上卻享有比臺北更好的何種優勢？

- (A) 交通較便利 (B) 就業機會較多
(C) 環境品質較佳 (D) 公共設施較完善

(B) 7. 臺灣近來每年出生人口數以一至二萬人的幅度減少，民眾不想生的主因，近四成七是因「經濟能力不足」。上述情況應是反映了當今哪項臺灣人口問題？

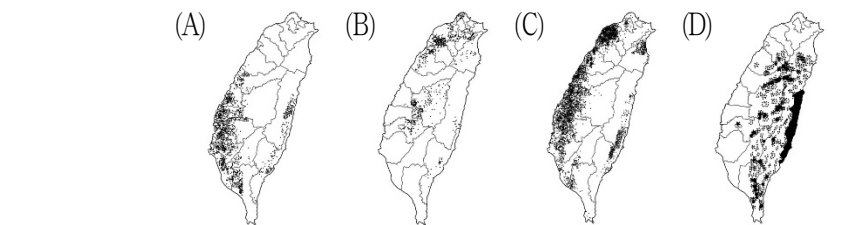
- (A) 高齡化 (B) 少子化
(C) 幼年化 (D) 都市化

(8. 臺灣雖位於低緯度的熱帶和副熱帶地區，但因地勢高，在高山地區可以種植溫帶水果)

(A) 8. 臺灣有「水果王國」的美稱，出產的水果種類豐富又美味，有屏東的蓮霧、新竹的甜柿，還有拉拉山的水蜜桃。臺灣具有哪種生產多樣化水果的優勢條件？

- (A) 具有熱帶高山 (B) 地形種類複雜
(C) 熱帶平原廣大 (D) 海島的獨特位置

(B) 9. 開放中國觀光客來臺後，凍頂烏龍茶、文山包種茶、阿里山高山茶等臺灣名茶，成為搶手的產品，是他們來臺必買的伴手禮。下列哪張作物分布圖，最符合臺灣茶樹分布的情形？



(C) 10. 住在臺北市區的慧蘭發現身邊的朋友在成家後，大多選擇搬遷到郊區。此現象主要受到市區哪些因素影響？(甲)就業機會多；(乙)交通不方便；(丙)環境品質差；(丁)房價較昂貴

- (A) 甲乙 (B) 乙丙
(C) 丙丁 (D) 乙丁

(10. 甲為都市拉力，乙為郊區推力，丙、丁為都市推力)

(C) 11. 臺南市政府為打響優質農產品名聲，特別舉辦「柳營牛奶——幸福 100」的活動。柳營區飼養的乳牛有 1 萬零 4 百多頭，提供全臺灣十分之一的牛乳量。此處的乳牛飼養屬於何種經營方式？

- (A) 養殖農業 (B) 放牧業
(C) 酪農業 (D) 游牧業

(C) 12. 美商某保健公司準備到臺灣設分公司販售保健食品，因此必須先調查臺灣的人口結構。此美商公司可參考下列哪種資料，才能針對不同的年齡層，評估進口保健食品的比例？

- (A) 人口分布圖
(B) 人口數量變化圖
(C) 人口金字塔圖
(D) 人口增加率變化圖

(12. 從人口金字塔圖可以看到各年齡層的人口比例)

(B) 13. 逸臣最喜歡回到臺南七股的外婆家玩，搭觀光漁筏探索沙洲生態、品嚐外婆做的各種蚵仔料理、踩著沙享受浪花，都是他的最愛，尤其蚵仔都是現採現烹調的，新鮮又可口。蚵農屬於哪種類型的漁業？

- (A) 遠洋漁業 (B) 養殖漁業
(C) 沿岸漁業 (D) 近海漁業

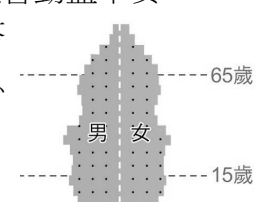
(13. 七股地區為潟湖地形，養殖漁業盛行)

(D) 14. 農委會實施的「漂鳥計畫」，其目標是希望吸引青年投入農業工作，並參與農場實作，以培養新一代的農業人才。農委會這項措施，主要是為了改善臺灣的哪項農業問題？

- (A) 機械化不易 (B) 集約耕作模式
(C) 耕地太過狹小 (D) 農村勞動力老化

(A) 15. 台糖在十多年前就開始尋求轉型，自 1990 年以來，台糖陸續轉型開發休閒產業，利用糖業生產所遺留之廠區房舍及農場土地，開發成為觀光糖廠。面臨轉型的主因之一可能是下列何者？

- (A) 生產成本提高
(B) 防止農地炒作
(C) 鐵道營運沒落
(D) 栽種條件不佳

- (A) 16. 臺灣的農技團舉世聞名，在外交活動中扮演重要角色，例如友邦帛琉的地質、氣候皆不適宜栽種水果，但經過農技團的指導後，現在當地已經可以栽培約 15 種以上的水果作物。上述事實與臺灣的何種農業特色最為相關？
 (16.臺灣農業技術先進，可以克服許多不利條件)
 (A)農業技術先進 (B)農產多元化
 (C)農業商品化 (D)集約化農業
- (B) 17. 位於彰化縣溪湖鎮的農產品交易中心，為臺灣中部重要的果菜交易市場，農民清晨時分便由彰化、雲林各地運來各種蔬果，在市場交易給果菜商後，再運往臺北等各大城市。該地區農業「商品化」的特徵可由下列何者觀察得知？
 (A)作物單位面積產量大
 (B)作物多運往市場銷售
 (C)作物為小規模生產
 (D)作物以集約方式耕作
- (A) 18. 安哲打算繪製臺中市 2017 年的人口金字塔圖，他需要收集哪些資料？(甲)年齡；(乙)性別；(丙)職業；(丁)經濟。
 (18.人口金字塔圖的繪製需要各年齡層和性別的比例)
 (A)甲乙 (B)乙丙 (C)丙丁 (D)甲丁
- (A) 19. 臺灣加入 WTO 後，開放國外進口農產品進入市場，農業面臨的挑戰更趨艱鉅。依產品性質分析，下列何者受到的衝擊較小？
 (20.雲林縣多以農業為主，工作機會較不充裕，故青壯年人口多往都市工作)
 (A)鮮奶 (B)高粱 (19.鮮奶不耐久藏，在地生產仍具競爭優勢，加入 WTO 後較不受影響)
 (C)羊肉 (D)柳橙
- (A) 20. 雲林縣宛如「黃昏的故鄉」，近年來人口結構嚴重老化，造成此種現象的主要原因為下列何者？
 (A)都市就業機會較多 (B)農村生產力提高
 (C)政府提倡節育政策 (D)社會動盪不安
- (B) 21. 右圖為某個國家的人口金字塔圖，根據此圖所解讀出的訊息，下列何者有誤？

 (A)人口高齡化
 (B)出生率低、死亡率高
 (C)政府應推行人口生育政策
 (D)類似目前臺灣的人口金字塔圖
- (B) 22. 清代的臺灣社會流傳著：「有唐山公，無唐山媽」、「娶一個某，卡贏三個天公祖」。此現象最能反應出當時臺灣哪種人口問題？
 (22.清領前期，只准單身男子到臺灣[渡臺禁令]，造成當時男女人口比例嚴重失衡)
 (A)人口分布不均
 (B)人口結構失衡
 (C)人口流失嚴重
 (D)人口素質較低
- (A) 23. 至善國某一年的口總數為 200 萬人，該年的出生人數為 2 萬人，死亡人數為 5 千人，移入人數為 2 千人，移出人數為 1 千人，該國該年人口的「自然增加率」為多少？
 (23. $[20,000 - 5,000] \div 200 \text{萬} \times 1,000\% = 7.5\%$)
 (A) 7.5% (B) 75%
 (C) 0.5% (D) 1.5%
- (D) 24. 黑鮪魚為東港三寶之一，是漁港裡最耀眼的明星，當地舉辦的「黑鮪魚文化觀光季」已打響知名度，並為屏東縣帶來上億觀光產值。上述東港當地因施行何種方式，而產生此光景？
 (A)推廣漁業新知 (B)漁民轉換跑道
 (C)維護漁業資源 (D)產業包裝行銷

- (D) 25. 葡萄牙人看到臺灣遍布青翠的森林時，曾讚譽臺灣為「Formosa」，林木也曾為臺灣外匯收入的主要來源之一。近年來，政府改變原先的經營態度，採取下列哪一種策略為目前林業經營主軸？
 (A)開發為大型遊樂園 (B)開發為高爾夫球場
 (C)規劃為蔬果專業區 (D)規劃為休閒遊憩區
- (B) 26. 澎湖的「海上牧場」原為當地漁民因天候不佳無法出海捕魚所因應而生的，近幾年來，此項漁業活動與觀光結合，讓遊客親身體驗養海鱸魚、趣味釣花枝、吃鮮魚湯或碳烤牡蠣等活動。文中所提「海上牧場」應為下列何者？
 (A)近海漁業 (B)箱網養殖漁業
 (C)遠洋漁業 (D)沿岸垂釣漁業
- (C) 27. 右表為四個地區的人口調查資料，根據表中數據判斷，哪個地區最有可能出現新生兒人數暴增的現象？
 (單位：%)

地區	甲	乙	丙	丁
移出率	14	7	12	9
移入率	11	11	4	15
人口增加率	1	4	2	3

 (27.新生兒人數暴增主要是來自高出生率。丙的社會增加率為-8%，卻有 2%的人口增加率，因此自然增加率達 10%)
 (A)甲 (B)乙
 (C)丙 (D)丁
- (A) 28. 臺灣加入世界貿易組織後，必須進口國外的農產品，造成國內農民的恐慌。下列四位農夫提出的因應方法，何者最為適宜？
 (28.B臺灣耕地小，不適合粗放耕作；C易破壞水土保持；D臺灣多數農產品在價格上難與外國競爭)
 (A)輝仔：我要改種溫室蔬菜
 (B)小乙：我要採粗放經營，降低成本
 (C)阿武：我要開闢山坡地，增加耕地
 (D)大辰：我要降價促銷

二、題組：每題 4 分，共 16 分

- ◎ 曉華全家到雲林玩，晚上到古坑喝咖啡時，店員介紹店內有一款當地種植、生產的咖啡豆，名為「23.5」，跟進口的咖啡豆比起來，由於成本高、產量少，所以在市面上無法大量見到其所製作的相關產品。請問：
- (A) 29. 古坑咖啡採用「23.5」為品牌名稱，這應該與下列哪項因素有關？
 (A)緯度位置 (B)價錢多寡
 (C)人口數量 (D)咖啡產量
- (D) 30. 除了咖啡之外，臺灣各類農產品的總產量也往往比他國少，主要原因為下列何者？
 (A)技術落後 (B)資金不足
 (C)人口太少 (D)土地狹小
- ◎ 常見的人口金字塔圖如下圖，若受到移入或移出的影響可能形成特殊型態的人口金字塔圖。請問：



- (C) 31. 光陰村內有許多來自菲律賓、越南、印尼等國的外籍媽媽，不考慮其他因素的話，光陰村的人口金字塔圖最接近何者？
 (A)甲 (B)乙 (C)丙 (D)丁
- (A) 32. 光陰村的外籍媽媽們是屬於哪種人口遷移類型？
 (A)國際永久性遷移 (B)國際暫時性遷移
 (C)國內永久性遷移 (D)國內暫時性遷移